

ΦΥΛΛΟ ΕΡΓΑΣΙΑΣ

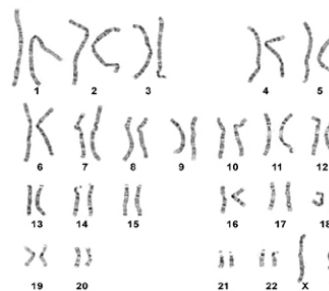
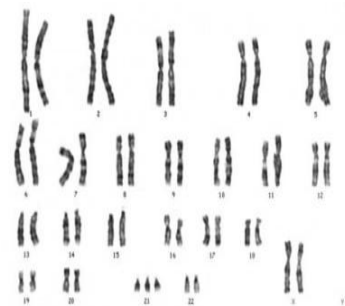
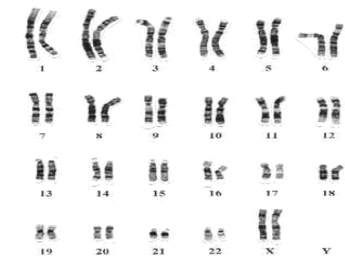
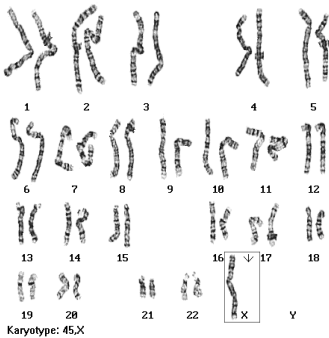
1. Δώστε τον ορισμό της έννοιας καρυότυπος.

.....
.....
.....

2. Τι μπορούμε να διαπιστώσουμε από έναν καρυότυπο;

A).....
B).....
Γ).....
Δ).....

3. Αντιστοιχίστε τις εικόνες με τις λέξεις.



- I. Θηλυκό άτομο
- II. Σύνδρομο Down
- III. Σύνδρομο Turner
- IV. Αρσενικό άτομο

